




Муниципальное автономное общеобразовательное учреждение  
«Средняя общеобразовательная школа №7» г.Колпашево

# Познавательная игра – соревнование «Прогулка по черно-белым полям»



учитель МАОУ «СОШ №7»  
Ольга Сергеевна Дорофеева




a8	b8	c8	d8	e8	f8	g8	h8
a7	b7	c7	d7	e7	f7	g7	h7
a6	b6	c6	d6	e6	f6	g6	h6
a5	b5	c5	d5	e5	f5	g5	h5
a4	b4	c4	d4	e4	f4	g4	h4
a3	b3	c3	d3	e3	f3	g3	h3
a2	b2	c2	d2	e2	f2	g2	h2
a1	b1	c1	d1	e1	f1	g1	h1





**Сколько клеточек  
на шахматной  
доске?**

**64**





**а7**

**Как ходит конь?**

**Буквой «Г»**





**а6**

**Сколько белых  
полей на  
шахматном поле?**

**32**







а5

Вертикалей на  
шахматном поле...

8






**а4**



**СКОЛЬКО ВСЕГО  
ПЕШЕК В  
НАЧАЛЬНОЙ  
ПОЗИЦИИ НА ДОСКЕ?**

**16**





а3

Кто самый слабый  
на шахматной  
доске?

Пешка








**a2**

**Назови  
центральные поля**

**d4, d5, e4, e5**





a1

СКОЛЬКО УГЛОВ НА  
ДОСКЕ?

4





**b1**

**Какие две фигуры  
не встречаются  
друг с другом?**

**Короли**





**b2**

**Родина шахмат**

**Индия**






**b3**



**Скажи чего  
больше белых или  
черных полей на  
доске?**

**Белые = Черные**







**b4**

**Сколько полей на  
одной  
горизонтали?**

**8**






**b5**

**Какая фигура  
самая высокая?**

**Король**





**b6**



Какая фигура при  
начальной  
расстановке  
стоит в углах?  
**Ладья**





**b7**



**Сколько фигур  
стоит в начальной  
позиции на  
вертикале «е»**

**4**





**b8**



**Какая фигура может  
перепрыгивать  
через свои и чужие  
фигуры?**

**Конь**








**По каким полям  
ходит  
чернополюный  
слон?**

**По черным**





**с7**

**Может ли конь с  
белого поля пойти  
на белое?**

**Нет**





с6

Может ли пешка  
сходить с белого  
поля на белое?

Да





с5

Какой у короля  
есть особенный  
ход?

Рокировка





**с4**



**Что выгоднее  
поставить шах или  
мат?**

**Мат**







с3



Если на поле два  
короля белый и  
черный, то кто  
выиграет белые  
или черные?

**Ничья**






**c2**



**Сколько у белых  
всего фигур в  
начальной  
позиции?**

**16**





**с1**

**По каким линиям  
ходит ладья?**

**По горизонтали и  
по вертикали**





**d1**

**Сколько черных  
полей на  
шахматной доске?**

**32**





d2

Горизонталей на  
шахматном поле...

8








**d3**

**По каким линиям  
ходит слон?**

**По диагонали**





d4

Что такое шах?

Нападение на короля





d5

Назови название  
всех фигур на  
шахматной доске.





d6

Что означают  
цифры на  
шахматной доске?

Горизонтали





**d7**



**Какая линия  
бывает только  
белого или только  
черного цвета  
Диагональ**







**d8**



**На каком поле  
стоит ферзь в  
начальной**

**позиции?**

**Ф d1, Ф d8**






**e8**

**Кто делает первый  
ход?**

**Белые**





e7



Какая диагональ  
длиннее белая  
большая или  
черная большая  
Равны






е6

Какая фигура  
самая сильная?

Ферзь





e5



На поле, какого  
цвета в начальной  
позиции стоит  
белый ферзь?  
**Белого**







**е4**



**На каких  
вертикалях стоят  
фигуры в  
начальной позиции?**

**На всех вертикалях**





е3

Какая фигура  
может сделать  
первый ход?

Конь






**е2**



**Может ли слон с  
белого поля пойти  
на черное?**

**Нет**





e1



Между какими  
фигурами стоит  
конь в начальной  
позиции?

Ладьей и слоном





**f1**

**Какую фигуру  
нельзя «срубить»?**

**Короля**







**f2**

**Какой фигуре  
ставят шах?**

**Королю**





Какой нужно  
сделать первый  
ход, чтобы  
захватить центр?

**d4, e4**





**f4**

**Можно ли ставить  
на одно поле по две  
фигуры?**

**Нет**






**f5**



**Сколько у черных  
всего фигур в  
начальной  
позиции?**

**16**





f6



Сколько максимум  
может быть белых  
ферзей на  
шахматной доске?

9








**f7**



**СКОЛЬКО ВСЕГО  
ФИГУР НА ПОЛЕ В  
НАЧАЛЬНОЙ  
ПОЗИЦИИ?**

**32**





**f8**

**Пешка может  
превратиться в...**

**Ферзь, ладья. конь, слон**





g8

Самая главная  
фигур на  
шахматной доске?

Король





g7

Что такое мат?

Шах, от которого нет  
спасения





g6

Какую форму  
имеет шахматная  
доска?

Квадрат







g5

Что означают  
буквы на доске?


Вертикаль





**g4**

# Счастливая ПОДКОВА





g3

Что такое  
шахматы?

Игра





**g2**

**Сколько полей на  
одной вертикали?**

**8**





g1



Сколько полей  
имеет самая  
маленькая  
диагональ?

2







**h1**

**Сколько фигур  
на 1-ой горизонтали  
в начальной  
позиции?**

**8**





**h2**

**По каким полям  
ходит белопольный  
слон?**

**По белым**






h3

Какой фигуре  
ставят мат?

Королю





**h4**

**Какие линии есть  
на шахматной  
доске?**

**Горизонталь,  
вертикаль,  
диагональ**





**По каким линиям  
ходит ферзь?**

**По горизонтали,  
вертикали, диагонали**







**h6**

При начальной  
расстановке фигур,  
скажи, сколько фигур  
расположено на каждой  
вертикале?

**4**






**h7**

**У кого больше сил  
перед началом партии у  
белых или у черных?**


**Силы равны**





**h8**

**Счастливая  
ПОДКОВА**





# «Прогулки по черно-белым полям»



**Поздравляем  
победителей!**